

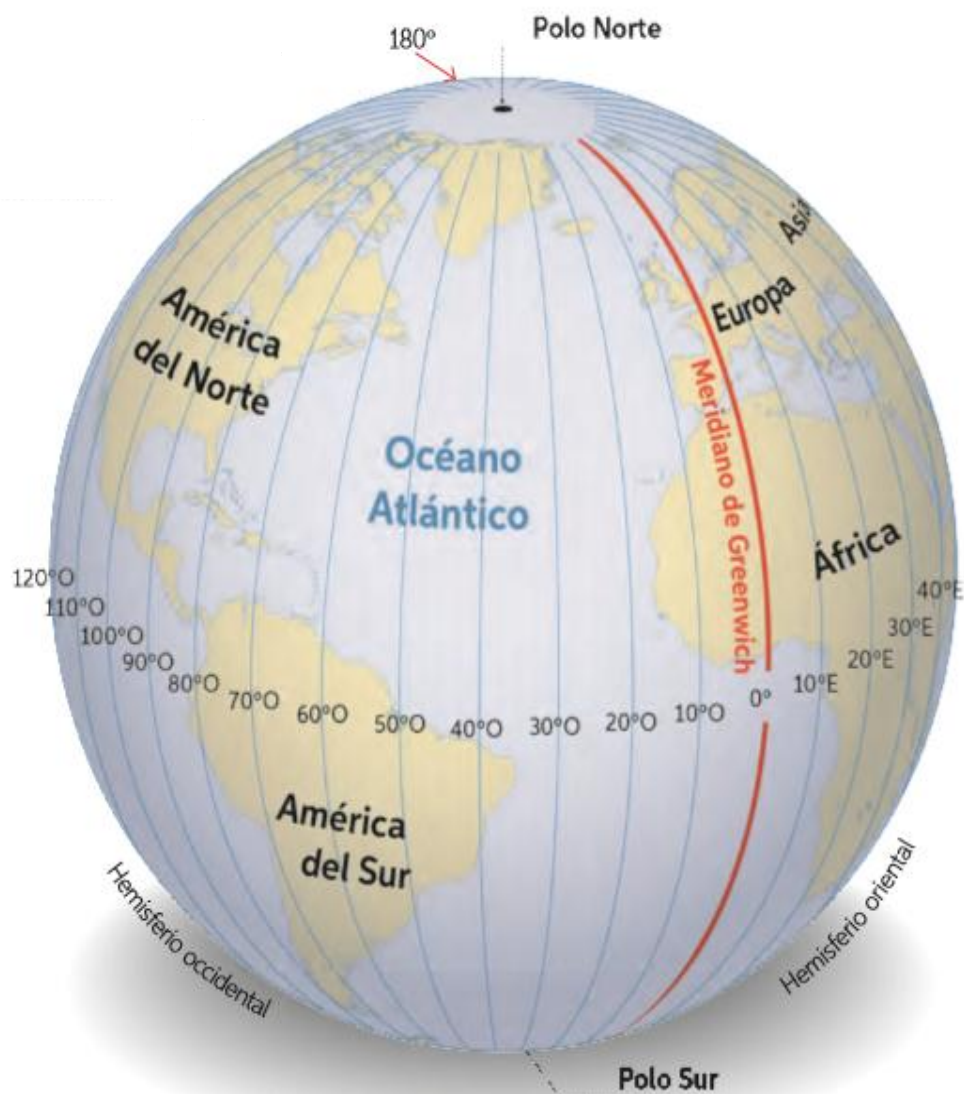


Historia, Geografía y Ciencias Sociales
Profesor Rodolfo Sáez

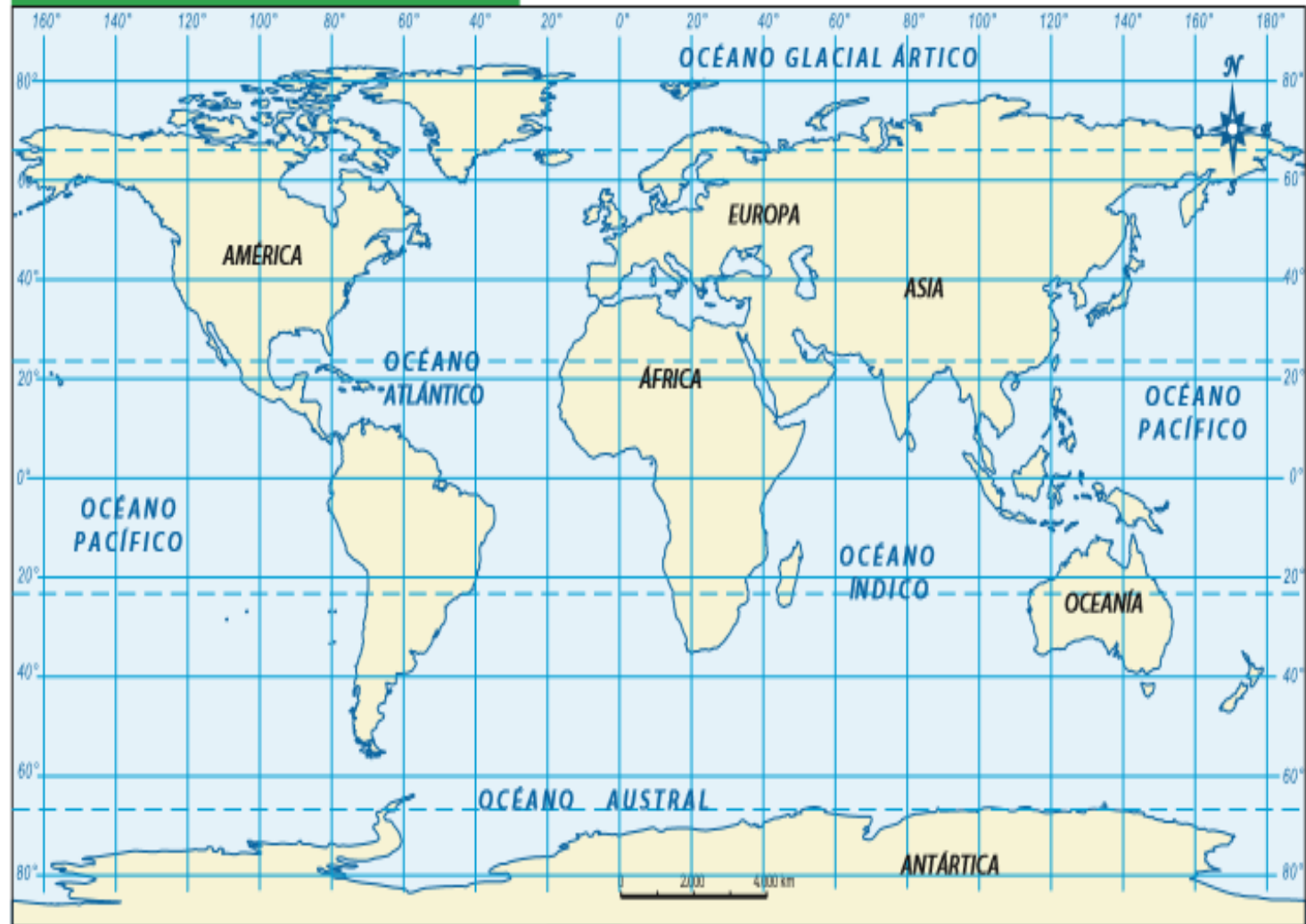
Actividad Martes 07 Abril

1. Leer y observar la página 76 de tu libro de historia.
2. Desarrollar la actividad propuesta en la página 77 de tu texto escolar.

***Los siguientes son lineamientos de posibles respuestas, el contenido debe ser similar, pero flexible en cuanto a la redacción , además de ser posible que encuentres otras variantes, aparte de las señaladas por el profesor.**



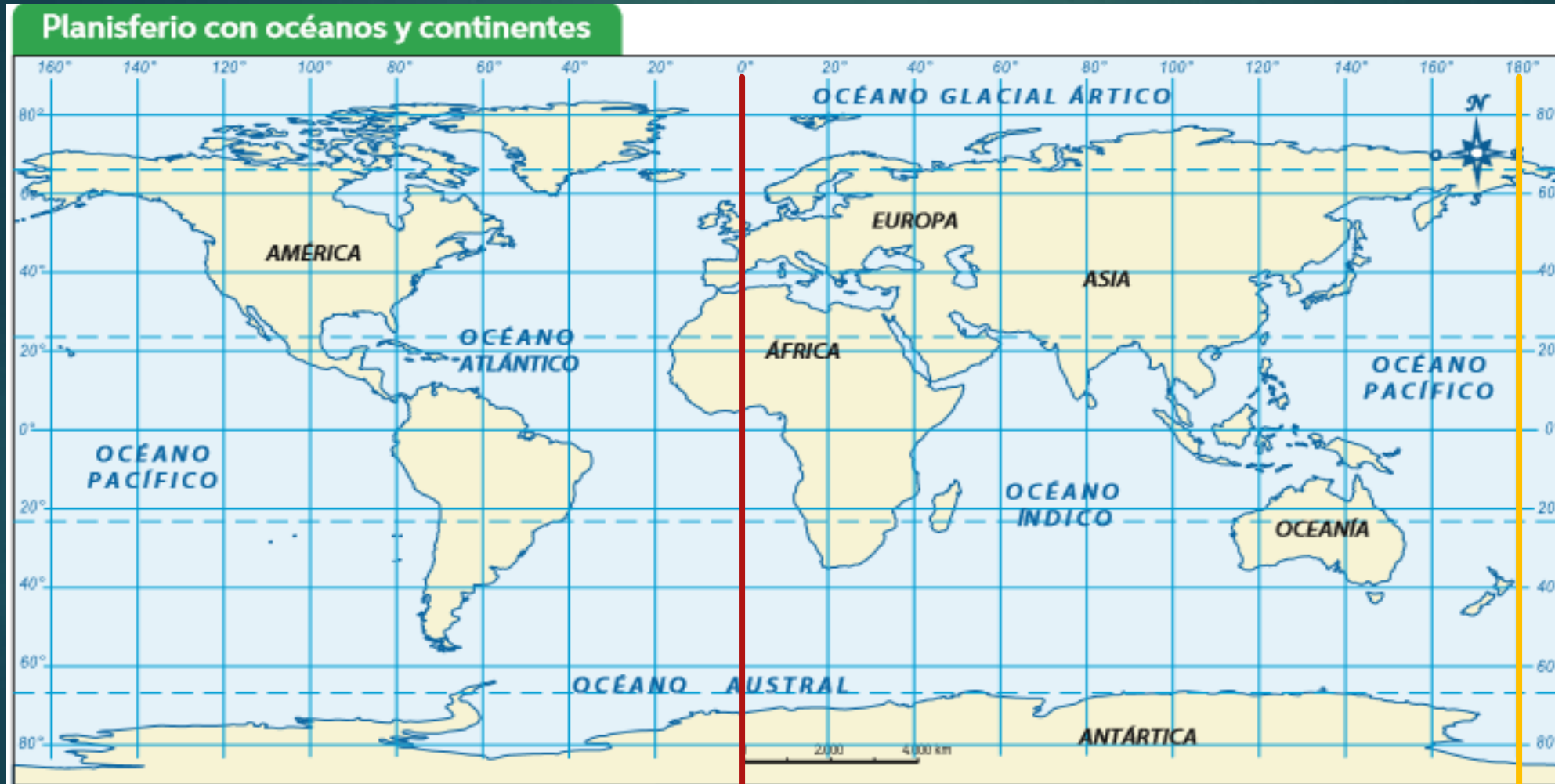
Planisferio con océanos y continentes



- 
1. ¿cuál de las representaciones permite representar mejor a los meridianos?
¿Por qué?

R: Realmente ambas son representaciones, por lo cual en cualquiera que queramos utilizar para trazar meridianos, no debería representar un desafío mayor que otra, aunque al momento de imaginar es mas cómodo con el globo terráqueo debido a que en el se puede apreciar su forma de semicírculos imaginarios. Por lo cual tu respuesta será correcta si señalaste la imagen uno como la mejor opción o buena pero no precisa si señalo que ambas son útiles

2. Marca sobre el mapa el meridiano de Greenwich y su meridiano contrario, el meridiano 180. Utiliza para esto, distintos colores.



Meridiano de Greenwich

Meridiano 180°




3. Según el mapa:

a. ¿En qué continentes existen lugares con longitud 0° ?

R: Los continentes en donde existen lugares con longitud 0° son África y Europa.

b. ¿Qué continentes tienen longitud solo este o solo oeste? , ¿Qué continentes se encuentran en ambos hemisferios?

R: Los continentes que poseen longitud solo este son Asia y Oceanía, los que poseen longitud solo oeste es América, mientras que los que poseen ambas son África, Antártica y Europa.



4. ¿Cuál es la importancia del meridiano de Greenwich para conocer la longitud de un punto o lugar sobre la superficie terrestre?

R: El meridiano de Greenwich es fundamental para conocer la longitud de un punto o lugar sobre la superficie terrestre, debido a que la longitud es la distancia en grados de cualquier punto con respecto a este meridiano.

Actividad Miércoles 08 Abril

1. En tu cuaderno nombra tres elementos que diferencian a Chile de cada uno de los siguientes países: Perú, México y Estados Unidos.

Las posibles respuestas a esta preguntas son variables, pero por lo general se acercaran a rasgos físicos, forma de hablar, costumbres alimenticias, palabras de moda, idioma, clima, geografía, relieve, flora, fauna, entre otras posibilidades.

Actividad Jueves 09 Abril

Desarrolla la actividad de la página 83 de tú libro de historia.

1. Pinta las tres regiones en que se divide América con un color diferente para cada una. Luego, completa la simbología del mapa.



SIMBOLOGÍA

- América del Norte
- América Central
- América del Sur



2. Señala en que hemisferio se ubican cada una de estas regiones.

R:

- América del norte se encuentra en el hemisferio norte y hemisferio oeste.
- América central se encuentra en el hemisferio norte y hemisferio oeste.
- América del sur se encuentra en el hemisferio sur y hemisferio oeste.